



INVESTIGACIÓN SOBRE PALESTINA, JERUSALÉN, EL TEMPLO Y EPISODIOS DE INTERÉS EN LA VIDA DE JC



Componentes del grupo	
Nombre y apellidos del investigador	Firma
1/ Portavoz:	
2/	
3/	
4/	
5/	
6/	



Debéis investigar en la biblioteca, NO en Internet, (a no ser que os lo indique el profesor) para hallar las respuestas a las cuestiones que tenéis debajo. Posteriormente, el grupo participará en una prueba contra el resto de investigadores. De vuestro esfuerzo depende que se haga justicia en el juicio por el asesinato de JC.

APARTADO 1. PALESTINA

❶ Haced un mapa físico y político de Palestina en tiempos de JC. Poned:

- Ríos y extensiones de agua.
- Formaciones montañosas y picos importantes.
- Regiones con sus capitales y otras cuatro ciudades importantes de cada región.

MAPA FÍSICO Y POLÍTICO DE PALESTINA



② ¿Cuál era la región que evitaban pisar los judíos por odio a sus habitantes? _____ (Buscar y leer la Parábola del Buen Samaritano)

③ ¿En qué momentos de su vida fueron importantes para JC estas ciudades?

◆ BELÉN →

◆ NAZARET →

◆ JERUSALÉN →

Situadlas en el mapa que habéis realizado.

④ ¿Qué episodios importantes de la vida de JC tuvieron lugar en...

◆ ... el monte CALVARIO o GÓLGOT A →

◆ ... el río JORDÁN →

◆ ... el monte TABOR (monte HERMÓN según otros) →

Situadlos en el mapa.

⑤ Ciudad de donde eran Pedro, Andrés y Felipe:

Situadla en el mapa.

⑥ ¿En qué región o provincia se conocieron JC y la mayor parte de sus amigos más cercanos? _____

⑦ Escribid aquí y escribid también en el mapa el nombre del lugar donde trabajaban Pedro, Andrés, Juan y Santiago:

(en el mapa pondréis: ...aquí trabajaban Pedro, Andrés, Juan y Santiago, señalándolo con una flecha)

⑧ Característica geográfica de Jericó que la hace única en el mundo: _____

⑨ Citad dos características del Mar Muerto que lo hacen único en el mundo.

a)

b)

APARTADO 2. POLÍTICA Y SOCIEDAD

Rellenad este cuadro sobre los grupos sociales en tiempos de JC.
(Podéis usar el anexo sobre los grupos sociales)

Creían en la resurrección (SÍ / NO)				---	---	---	---	---
¿Cómo se ganaban la vida?								
Usaban la fuerza contra los romanos (SÍ / NO)	---					---	---	---
Estaban en contacto con los romanos (SÍ / NO)	---			---		---	---	---
Colaboraban con los romanos	---			---		---	---	---
CLASE (alta, media, baja)	---						---	

GRUPO SOCIAL	ROMANOS	SADUCEOS	FARISEOS		ZELOTES	PUEBLO	MUJERES	MARGINADOS
---------------------	---------	----------	----------	--	---------	--------	---------	------------

CUESTIONES

1./ Poned 5 ejemplos de marginados de la época de JC:

-
-
-
-
-

2./ a) ¿Qué profesión tenían Pedro, Andrés, Juan y Santiago?

b) ¿A qué grupo social pertenecían?

3./ Averigua el nombre de un apóstol que pertenecía a los zelotes: _____

4./ Nombre de un fariseo que apreciaba mucho a JC: _____ (Pista: v. Jn 3, 1)


5./ Nombre de un saduceo que no estuvo de acuerdo con la condena de JC durante el juicio ante el grupo de sacerdotes del templo y que apreciaba a JC: _____

(Pista: v. Lc 23, 50-51)

APARTADO 3. LA CIUDAD DE JERUSALÉN

❶ Dibujad un plano de Jerusalén en la época de JC. Colocad lugares donde ocurrieron cosas importantes relacionadas con la vida de JC.

PLANO DE JERUSALÉN



② LA FORTALEZA o TORRE ANTONIA...

- a) ¿Qué era?
- b) Señaladla en el plano.
- c) ¿Qué ocurrió allí?

③ Leed Lc 23, 4-7

- a) ¿Cuál era el nombre completo de Herodes?

b) ¿Qué cargo tenía Herodes, es decir, qué territorio estaba bajo su poder? Indicadlo en el mapa: _____

- c) Durante el juicio, Pilato envió a JC a un lugar. ¿Cuál?

 Situadlo en el plano.

- ④ a) ¿Qué cargo tenía el jefe del Sanedrín? _____
- b) ¿Cómo se llamaba? _____
- c) ¿Dónde vivía? Situadlo en el plano de Jerusalén.

⑤ LA PISCINA DE SILOÉ...

- a) ¿Qué era?
- b) Situadla en el plano.
- c) ¿Para qué servía durante la fiesta de los Tabernáculos?
- d) ¿Qué episodio de interés ocurrió allí? Explicadlo brevemente.

⑥ EL MONTE CALVARIO...

- a) Situadlo en el plano.
- b) ¿Qué otro nombre tenía? _____
- c) ¿Cómo se traduce ese nombre al castellano? _____
(Pista: Jn 19, 17)

⑦ EL HUERTO DE LOS OLIVOS...

- a) Situadlo en el plano.
- b) ¿Cómo se llama al lugar exacto dentro del huerto donde fue detenido JC?
- c) ¿Cómo supieron los soldados a quién tenían que apresar?
- d) ¿Por cuánto dinero fue vendido JC? (Pista: Mt 26, 14)
- e) ¿Qué significa la expresión «ser un Judas»? ¿Por qué?

⑧ EL TEMPLO...

- a) Situadlo en el plano.
- b) ¿Quién estaba y residía en el templo según los judíos?

APARTADO 4. EL TEMPLO

❶ Haced un plano del Templo de Jerusalén en tiempos de JC lo más detallado posible. Poned el nombre de las zonas más importantes del mismo.

PLANO DEL TEMPLO



❷ Nombrad y señalad en el plano el lugar donde había estado el famoso Arca de la Alianza: _____

❸ Señalad en el plano el lugar donde rezaban las mujeres. ¿Cómo se llamaba?

❹ Señalad en el plano el lugar donde los diversos comerciantes podían hacer negocios, también único lugar del templo donde podían estar los extranjeros. ¿Cómo se llamaba?

APARTADO 5. EPISODIOS DEL NUEVO TESTAMENTO Y OTRAS CUESTIONES

ASESINATO DE JC

- ① VERÓNICA...
 - a) ¿Qué hizo?
 - b) ¿Consiguió dar de beber a JC?
 - c) ¿En qué Evangelio aparece?

 - ② Explicad el significado de la expresión «ser un Cireneo»:

 - ③ Pilato puso un cartel en la cruz, quizá para fastidiar a los judíos, o porque creyó que así le llamaban a JC.
 - a) ¿Qué puso en el cartel?
 - b) ¿En qué idiomas?(Pista: ver el episodio de la crucifixión en Jn)

 - ④ ¿Junto a quiénes fue crucificado JC?
 - a) Según Jn:
 - b) Según Lc:
 - c) Según Mc:
 - d) Según Mt:

 - ⑤ Escribid una frase que dijo JC en la cruz:

 - ⑥ ¿Qué pasó cuando JC expiró?

 - ⑦ **a)** ¿Qué le dieron de beber a JC estando ya crucificado

 - b)** ¿Y justo antes de crucificarlo según Mt? _____ y

 - ⑧ **a)** Cuando convenía, los romanos aceleraban la muerte de los crucificados: ¿cómo?
 - b)** ¿Por qué a Jesús no le aceleraron la muerte?
 - c)** ¿Qué hicieron?
-

OTROS DATOS

- 9./ a)** ¿En qué año nació JC? _____
b) ¿A qué edad murió JC? _____ ¿En qué año? _____
- 10./** ¿Qué religión practicó JC?
- 11./** ¿Cuáles son las pruebas de que JC existió?
- 12./ a)** ¿Dónde le clavaron los clavos a JC?
b) ¿Cuántos clavos?
- 13./** ¿Qué es la Torá?
- 14./** ¿Qué significa «testimonio»?
- 15./** ¿Por qué llamaban a JC «el nazareno»?
- 16./ a)** ¿En qué ciudad vivió JC la mayor parte de su vida?
b) ¿En qué región se encontraba esta ciudad?
- 17./** Leed Lc 6, 14-16
a) ¿Cuántos discípulos tenía JC?
b) ¿Cuántos de ellos se llamaban Santiago?
c) ¿Cuántos de ellos se llamaban Simón?
d) ¿Cuántos de ellos se llamaban Judas?
e) ¿Quién era hermano de Pedro?
- 18./** Decid cómo se llamaba el abuelo de JC: _____
(Pista: buscad una genealogía de JC en el NT)
- 19./** BAUTISMO DE JESÚS...
a) ¿Dónde tuvo lugar? _____
b) ¿Quién bautizó a JC? _____
- 20./** ¿Cuáles eran las provincias más extremas del Imperio Romano en tiempos de JC?
- 21./** ¿Qué cargo tenía Poncio Pilato? _____
Cita un sinónimo de ese cargo _____
-

BIBLIOGRAFÍA

(Esta bibliografía es la existente en el IES Josep Iborra de Benissa. El profesor habrá de buscar la existente en su centro y confeccionarla)

APARTADO 1. PALESTINA

①

- Mapas que hay al final de La Biblia (Biblia en valenciano, la de color verde)
- Mapa político en Palestina en tiempos de Jesús. Ch. SAULNIER, B. ROLLAND. de. Verbo Divino (Pg. 32)
- Mapa físico en ATLAS BÍBLICO ILUSTRADO. Ed. San Pablo
- Mapas físico y político en ATLAS BÍBLICO. Ed. Verbo Divino (Capítulos 1º y 14º)
- Mapa político. Jesús. JOHN DRANE
- Mapa físico y político en Enciclopedia de la Biblia. Ed. Verbo Divino- Ed. San Pablo (Anexo y pg. 3)
- Nou Testament. Ed. Claret / Quatre rius

②

- Buscar y leer la Parábola del Buen Samaritano en la Biblia Didáctica
- Perquè en paràboles. JACQUES DUPONT (Págs. 50 y 64)

③

Vocabulario de la Biblia Didáctica. Ed. SM

④

- Monte Calvario o Gólgota: Plano en ATLAS BÍBLICO ILUSTRADO (Pg. 42)
- Río Jordán: ATLAS BÍBLICO ILUSTRADO (Pgs. 36 y 37)
- Monte Tabor:
 - a) ATLAS BÍBLICO ILUSTRADO (pg. 37)
 - b) Vocabulario de la Biblia Didáctica. Ed. SM

⑤ Vocabulario de la Biblia Didáctica. Ed. SM

⑥ y ⑦ El mundo de la Biblia (Libro 10, pg. 4)

⑧

- Nueva Enciclopedia LAROUSSE.
- Enciclopedia de la Biblia. de. Verbo Divino-Ed. San Pablo (Pg. 272)
- Gran Diccionario enciclopédico. Ed. Plaza y Janés.

⑨

- a) Nueva Enciclopedia Larousse
 - b) Gran Diccionario Enciclopédico PLAZA. Ed. Plaza & Janés
-

APARTADO 2. POLÍTICA Y SOCIEDAD

Tabla

- Los escribas:
 - a) Palestina en tiempos de Jesús. Ch. SAULNIER, B. ROLLAND
 - b) Hombres y cosas del Nuevo Testamento. ALBERT ROUET
- Sobre la sociedad en general: Jesús. JOHN DRANE (pgs. 16-23)

③ Palestina en tiempos de Jesús. Ch. SAULNIER, B. ROLLAND
(pg. 49, primer párrafo)

APARTADO 3. JERUSALÉN

① Nueva Enciclopedia LAROUSSE

⑤ La piscina de SILOÉ:

- Palestina en tiempos de Jesús. Ch. SAULNIER, B. ROLLAND
- Hombres y cosas del Nuevo Testamento (buscar en Fiestas, la fiesta de los Tabernáculos)

⑦ ATLAS BÍBLICO ILUSTRADO

APARTADO 4. EL TEMPLO

- Planos del templo:

- a) Jesús. JOHN DRANE. Pg.20
- b) Hombres y cosas del Nuevo Testamento. ALBERT ROUET
- c) El mundo de la Biblia (Libro 13, pg. 26)

- Dónde estaba el Arca de la Alianza:

- a) Palestina en tiempos de Jesús. Ch. SAULNIER, B. ROLLAND. Pgs. 20 y 25

